

b pertumbuhan tumbuhan

aku sudah tahu pertumbuhan hewan
aku ingin tahu cara pertumbuhan tanaman


ada tumbuhan yang berasal dari biji
contohnya jambu dan mangga
juga manggis dan rambutan
biji ada di dalam buah
lihatlah gambar di bawah ini



jambu



mangga




manggis



rambutan

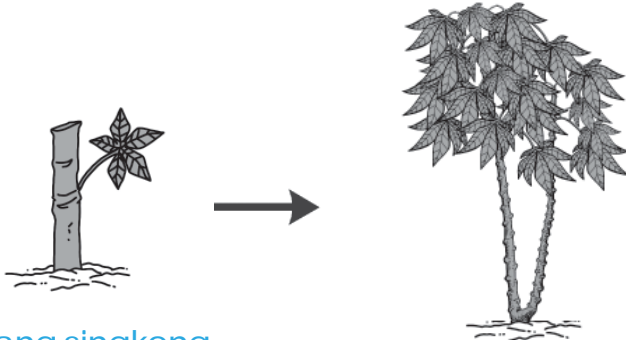
biji yang ditanam dapat tumbuh
lihatlah gambar di bawah ini



pertumbuhan biji menjadi pohon

dari biji tumbuh tunas dan akar
tunas tumbuh menjadi batang dan daun
semakin lama batang semakin tinggi
semakin lama daun bertambah banyak
akhirnya tumbuhan menjadi besar


ada tumbuhan yang berasal dari batang
contohnya pohon singkong dan bambu
batang singkong dapat ditanam
dari batang akan tumbuh tunas
lihatlah gambar di bawah ini



batang singkong

pohon singkong

ayo pikirkan bersama temanmu



ayo lihat nama tumbuhan di bawah
manakah yang berasal dari biji
tulislah jawabanmu di buku tugas

1 kelapa

4 jagung

7 kentang

2 padi

5 jeruk

8 pisang

3 apel

6 ubi

9 bawang

kegiatan 2

pertumbuhan biji kacang hijau

alat dan bahan

- 1 sepuluh biji kacang hijau
- 2 piring kapas dan air secukupnya

langkah-langkah

- 1 rendam biji dalam air selama semalam
- 2 isilah piring dengan kapas basah lalu letakkan biji di atas kapas
- 3 letakkan piring di tempat teduh siramlah biji setiap hari selama enam hari amati perubahan yang terjadi



pertanyaan

- 1 bagian apa yang pertama kali tumbuh
- 2 pada hari seberapa tumbuh akar
- 3 pada hari seberapa tumbuh daun
- 4 apakah tiap hari tumbuhan makin tinggi mengapa hal itu dapat terjadi

Petunjuk bagi guru:

Siswa diberi contoh menyiapkan semua alat dan bahan serta cara menyiram dan mengamati setiap hari selama enam hari berturut-turut.





rangkuman

- 1 ada hewan yang beranak
contohnya kucing anjing dan gajah
- 2 ada hewan yang bertelur
contohnya ayam itik dan burung
- 3 hewan tumbuh dari kecil menjadi besar
hewan harus diberi makan dan minum
- 4 ada tumbuhan yang berasal dari biji
contohnya jambu mangga dan rambutan
- 5 ada tumbuhan berasal dari batang
contohnya singkong
- 6 tumbuhan tumbuh dari kecil menjadi besar
tumbuhan harus disiram dan diberi pupuk



refleksi

pernahkah aku mengamati
pertumbuhan hewan yang ada di sekitarku
dapatkah aku menceritakannya



latihan akhir bab

Petunjuk bagi guru

Bila siswa belum lancar membaca, guru membantu membacakan soal.
Guru juga diharapkan memastikan siswa menuliskan jawaban di buku tugas



a ayo tulislah benar atau salah


contoh:

setiap makhluk hidup tumbuh besar **benar**

- 1 kucing betina dapat beranak
- 2 gajah dan kuda dapat bertelur
- 3 ayam jantan dapat bertelur
- 4 telur ayam menetas menjadi anak ayam
- 5 kucing kecil dapat tumbuh menjadi besar
- 6 hewan piaraan tidak perlu diberi makan
- 7 semua tanaman berasal dari biji
- 8 pohon singkong berasal dari batang
- 9 pupuk berguna menyuburkan tanaman
- 10 tunas tumbuh menjadi batang dan daun


b ayo urutkan dan beri nomor 1 - 4!

1 pertumbuhan kucing




urutannya adalah ... - ... - ... - ...

2 pertumbuhan ayam



urutannya adalah ... - ... - ... - ...

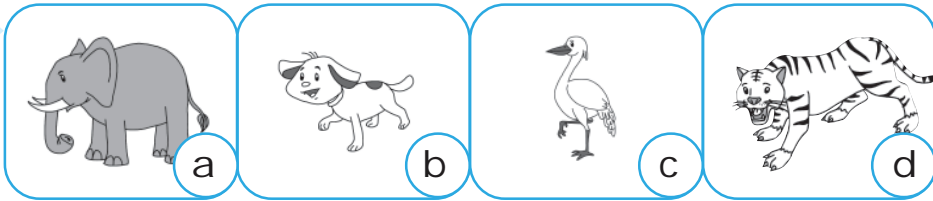
3 pertumbuhan tumbuhan berbiji



urutannya adalah ... - ... - ... - ...


c ayo pilihlah gambar yang sesuai
boleh pilih lebih dari satu

1




hewan yang beranak adalah ...

2



hewan yang bertelur adalah ...

3



tanaman yang berasal dari biji adalah ...

tugas rumah

gambarlah pertumbuhan hewan kesukaanmu
gambarlah dari kecil hingga besar



Petunjuk bagi orang tua:

Orang tua membantu siswa memilih hewan kesukaan dan menggambarkan pertumbuhannya. Arahkan untuk menunjukkan perubahan ukuran hewan.