

teropong ilmu

beberapa benda terbuat dari plastik
ada plastik yang lunak
plastik dapat diolah menjadi berbagai bentuk



kegunaan benda di sekitar kita

banyak benda di sekitar kita
ada benda di rumah
ada benda di sekolah

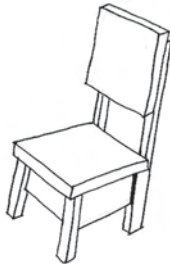
bagaimana dengan kegunaan benda
sudahkah kamu mengenalnya
ayo rame rame cari tahu
kegunaan benda kita

1 kegunaan benda di rumah
banyak benda di rumah
gunanya berbeda beda

di rumah ada almari
ada meja dan kursi
ada televisi dan radio
ada sendok dan piring
ada sapu dan cangkul
samakah gunanya


ayo mencari tahu
amati gambar berikut
tulislah apa gunanya

apakah benda di samping ini
apa gunanya



apa nama benda di samping ini
apa gunanya

apa nama benda di samping ini
apa gunanya



apa nama benda di samping ini
apa gunanya

gambar apakah di samping ini
apa gunanya



apakah benda di samping ini
apa gunanya

apa nama benda di samping ini
apa gunanya




coba tebak apa nama benda ini
apa gunanya



2 kegunaan benda di sekolah
bagaimana dengan benda di sekolahmu
apa saja gunanya
mari kita amati kelasmu

ada banyak benda di kelasmu
ada papan tulis
ada kapur dan penghapus
ada meja dan kusi
ada tempat sampah
ada sapu



bendamu banyak sekali
apa saja gunanya
ambil buku tugasmu
tuliskan guna benda di kelasmu

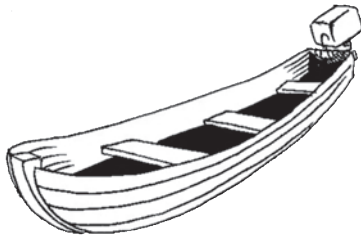

tabel 3 benda benda yang ada di kelas

no	benda yang ada di kelas	guna benda
1	papan tulis	untuk menulis bahan pelajaran
2		
3		
4		
5		
6		

3 guna benda lainnnya
benda ada di mana mana
jumlah dan macamnya sangat banyak
ada yang di dalam rumah
ada yang di luar rumah


apa saja benda di luar rumah
yang sering kamu temukan
pernahkah kamu melihat benda berikut
mari kita temukan guna benda lagi

apa nama benda di samping ini
apa gunanya




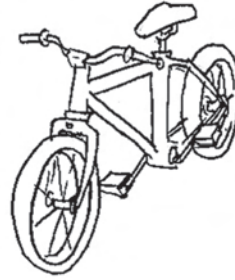
apa nama benda di samping ini
apa gunanya

apa nama benda di samping ini
apa gunanya




apa nama benda di samping ini
apa gunanya


apa nama benda di samping ini
apa gunanya



apa nama benda di samping ini
apa gunanya


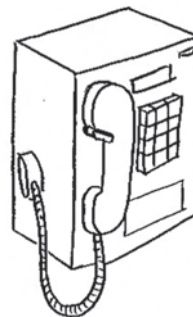


apa nama benda di samping ini
apa gunanya



coba tebak
apa nama benda di samping ini
apa gunanya

apa nama benda di samping ini
apa gunanya



apa nama benda di samping ini
apa gunanya

kamu sudah mengenali banyak benda
kamu tahu gunanya
sudah benarkah caramu menggunakan benda
siaplah melakukan aksi seru
tebak mana yang salah
tebak mana yang benar



aksi seru 6

menggunakan pensil dengan benar
perhatikan gambar di bawah ini



manakah yang menggunakan pensil dengan benar
coba peragakan memegang pensil yang benar

menggunakan telepon dengan benar
perhatikan gambar di bawah ini



manakah yang menggunakan telepon dengan benar
ayo peragakan memegang telepon yang benar

menggunakan kursi dengan benar
perhatikan gambar di bawah ini



manakah yang menggunakan kursi dengan benar
coba peragakan menggunakan kursi yang benar

pedoman guru



guru memberikan pengarahan pada siswa dan memberikan contoh cara menggunakan benda dengan benar pada aksi seru 6



kini aku tahu

ada banyak benda di sekitarku
bentuk ukuran warna dan bau benda
bermacam macam
ada yang sama ada yang beda
aku bisa mengenali benda
mengenali benda dari ukurannya
ada yang besar ada yang kecil
bentuk benda juga beragam
ada persegi dan persegi panjang
ada lingkaran dan segitiga
benda dapat berubah bentuk
bendamu juga punya kegunaan
ada yang sama ada yang beda



mengertikah aku (refleksi)

aku ingin bercerita tentang suatu benda
aku juga ingin membedakan benda di sekitarku
apa yang sebaiknya aku ceritakan
sifat benda apa yang aku pilih

pedoman guru






guru mengarahkan siswa untuk menjawab pertanyaan yang ada pada rubrik *mengertikah aku* misalnya siswa diminta bercerita tentang tempat minumnya



soal akhir bab

kerjakan soal soal di buku tugasmu
pilihlah jawaban yang benar


- 1 uang logam berbentuk
a bulat b lingkaran c persegi
- 2 benda yang mudah dibentuk
a batu b tanah liat c besi
- 3 almari berguna untuk
a menulis b menyimpan c membaca
- 4 meja berguna untuk
a bermain b alas menulis c duduk
- 5 pensil berguna untuk
a menulis b bermain c membaca
- 6 benda yang ada di kelas adalah
a cangkul b palu c papan tulis
- 7  becak berguna untuk kendaraan....
a darat
b laut
c udara
- 8  pesawat terbang berguna untuk kendaraan....
a darat
b laut
c udara
- 9  kapal berguna untuk kendaraan....
a darat
b laut
c udara

10 uang kertas berbentuk

- a oval
- b lingkaran
- c persegi

jodohkan sesuai gambar

a



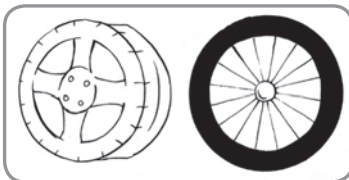
lentur

b



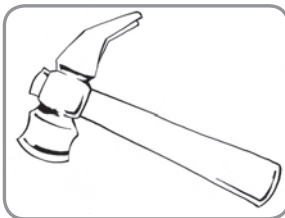
tidak lentur

c



berbentuk lingkaran

d



berbentuk persegi

e



mudah pecah

jawablah dengan singkat dan benar

- 1 tuliskan lima benda di rumah
- 2 apa guna benda tersebut
- 3 tuliskan lima benda di kelas
- 4 apa guna benda tersebut
- 5 perhatikan gambar berikut mana yang benar



tugas proyek

kamu memang murid yang hebat
selalu ingin tahu banyak hal
termasuk sifat benda
sifat benda di lingkungan rumah
sudahkah kamu tahu sifat benda

banyak benda di lingkungan rumah
ada yang terbuat dari plastik
ada benda yang keras dan lunak
ada juga benda yang cair

ada dua tugas menarik untukmu

- 1 tulislah benda di rumahmu yang terbuat dari plastik dan benda yang cair
- 2 buatlah daftar benda keras dan lunak temukan sebanyak banyaknya masukkan dalam daftar berikut

tabel 4 benda lunak dan benda keras

no	benda lunak	benda keras

ayo murid hebat kamu pasti bisa
kalau kesulitan bertanyalah pada orangtua
jangan lupa laporkan hasilmu pada guru

pedoman guru



- 1 tema tugas proyek ini adalah lingkungan
- 2 siswa diberi tugas untuk melaporkan hasil proyeknya